



CONSTRUCTION
INDUSTRY COUNCIL
建造業議會

سنگِ مرمر کا کاریگر سکیڈ ٹریڈ ٹیسٹ موک تحریری ٹیسٹ پیپر

此文件關於雲石工工藝測試考題。如有需要索取此文件的中文版本，請致電 2100 9000 與香港建造業工藝測試中心聯絡。

This document related to mock test paper of skilled trade test for Marble Worker. Should you require an English version of this document, please contact Hong Kong Construction Industry Trade Testing Centre at 2100 9000.

اظہار لا تعلقی

سی آئی سی کی لکھی ہوئی اجازت کے بغیر اس مواد کے کسی بھی حصے کو دوبارہ چھاپہ، تیار یا منتقل کسی بھی طرح سے یا کسی بھی مقصد کے لئے نہیں کیا جا سکتا۔ جبکہ اس مواد میں شامل معلومات کی درستگی کو یقینی بنانے کے لئے مناسب کوششیں کی گئی ہیں، اس کے باوجود سی آئی سی ہمیشہ قارئین کو جتنا ممکن ہو اپنے پیشہ ور مشیروں سے آزادانہ مشورہ طلب کرنے کی حوصلہ افزائی کرے گا اور قارئین کسی متعلقہ اقدامات کے لئے ایسے پیشہ ور مشورے کے لئے اس مواد کو بطور متبادل نہ سمجھیں اور نہ ہی اس پر انحصار کریں۔

معلومات




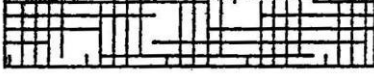
اس مواد کے بارے میں انکوائری ہانگ کانگ کنسٹرکشن انڈسٹری ٹریڈ ٹیسٹ سینٹر میں کی جا سکتی ہے۔

95, Yue Kwong Road 95, یو کونگ روڈ
Aberdeen آبرڈین
Hong Kong ہانگ کانگ





ٹیلی فون: (852) 2100 9000
فیکس: (852) 2100 9090
ای میل: enquiry@cic.hk
ویب سائٹ: www.cic.hk

© 2020 کنسٹرکشن انڈسٹری کونسل.

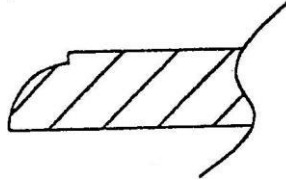
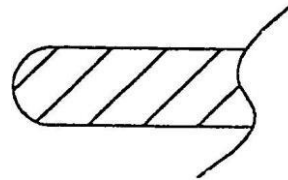
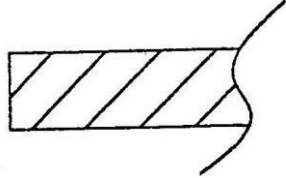
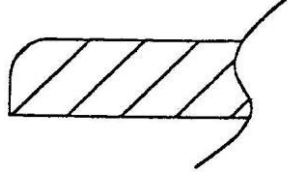
1- مندرجہ ذیل میں سے کونسا نشان کنکریٹ کو ظاہر کرتا ہے؟

- (a) 
- (b) 
- (c) 
- (d) 

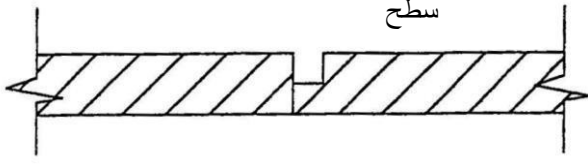
2- مندرجہ ذیل میں سے کونسا نشان سطح پیما کو ظاہر کرتا ہے؟

- (a) 
- (b) 
- (c) 
- (d) 

3- مندرجہ ذیل میں سے کونسا خاکہ سنگ مرمر کے چار خانہ والے حصے کی نمائندگی کرتا ہے؟

- (a) 
- (b) 
- (c) 
- (d) 

4 - مندرجہ ذیل خاکہ میں سنگ مرمر کا جوڑ ہے :



- (a) فالس سنگ مرمر کا زاویہ
- (b) دائرے والا جوڑ
- (c) اسٹریک جوڑ
- (d) عام جوڑ

5- مندرجہ ذیل میں سے کونسی خوبی سنگ مرمر کی نہیں ہے؟

- (a) پن روک
- (b) پانی کو جذب کرنا
- (c) تیزاب کی مزاحمت کرنا
- (d) قدر اتساع اور اختصار

6- سیاہ اطالوی زمبابوے کی خوبی ہے :

- (a) نازک
- (b) باآسانی سے رنگ کا بہنا
- (c) باآسانی سے لپیٹ جانا
- (d) آنکھوں کے لئے نمایاں اثر کرنا

7- بوٹی سینو کس قسم کا پتھر ہے؟

- (a) بھر بھرا پتھر
- (b) بندھا ہوا پتھر
- (c) سخت پتھر
- (d) سنگ مرمر

8- "ٹائیگر ریڈ ماربل" کس قسم کا پتھر ہے؟

- (a) بھر بھرا پتھر
- (b) بندھا ہوا پتھر
- (c) سخت پتھر
- (d) سنگ مرمر

9- مفروض سطح کو کہتے ہیں :

- (a) اسپرٹ لیول کی سطح
- (b) بنیادی سطح
- (c) سیل کی سطح
- (d) تمام سطح پیما کے لئے تعمیراتی مقام کی بنیادی سطح

10- بلند دیوار پر لگے سنگ مرمر کی عمودیت کو ٹھیک کرنے کے لئے کیا استعمال کیا جاتا ہے؟

- (a) مسطر
- (b) پلمب باب
- (c) اسٹیل کی تار
- (d) اسپرٹ لیول

11- سنگ مرمر مربع کی صورت ہے یا نہیں ، اس کی پیمائش کے لئے کیا استعمال کیا جاسکتا ہے؟

- (a) کراس طریقہ کار
- (b) وتری طریقہ کار
- (c) عمودی کھچاؤ کا طریقہ کار
- (d) افقی طریقہ کار

12- عام خشک لٹکانے کے طرز عمل (دیوار میں سوراخ) کے کتنے طریقہ کار ہیں؟

- (a) ویلڈنگ
- (b) دیوار کے سوراخ کو بند کرنے کے لئے پتلا سیمنٹ بھرنا
- (c) مڈ جیک
- (d) قدر اتساع والے بولٹ کا استعمال

- (a) A اور B
- (b) B اور C
- (c) C اور D
- (d) A اور D

13. مندرجہ ذیل میں سے کونسا اوزار سطح پیما کی پیمانہ بندی کرتا ہے؟

- (a) پیمائش ناپنے والا فیتہ
- (b) ٹرائی اسکوائر
- (c) اسپرٹ لیول
- (d) لکڑی کابنا ہوا تہ ہوجانے والا مسطر

14. عام طور پر سنگ مرمر کے لئے برماکاری کے پرزوں کا قطر ہوتا ہے :

- (a) 3 ملی میٹر (1/10 چینی انچ)
- (b) 4 ملی میٹر (1 1/4 /10 چینی انچ)
- (c) 5 ملی میٹر (1 1/2 /10 چینی انچ)
- (d) 6 ملی میٹر (2/10 چینی انچ)

15. با آسانی لے جانے کے قابل والی پسنبارے کی مشین میں عام طور پر لگنے والی منڈل کا قطر ہوتا ہے :

- (a) 100 ملی میٹر
- (b) 200 ملی میٹر
- (c) 300 ملی میٹر
- (d) 400 ملی میٹر

16. پن پلگ کے علاوہ (اسٹیل کی پن)، خشک لٹکانے کا طرز عمل (دیوار میں سوراخ) استعمال کرتا ہے :

- (a) اوپر اور نیچی لپیٹے ہوئے بریکٹ
- (b) مرغولہ بریکٹ
- (c) اسٹیل کی تار
- (d) لوہے کی تار

17- اونچائی پر کام کرنے کا مطلب ہے کہ کام کے مقام اور زمین کے درمیان فاصلہ ہے :

- (a) 1 میٹر یا زائد کا
- (b) 2 میٹر یا زائد کا
- (c) 3 میٹر یا زائد کا
- (d) 4 میٹر یا زائد کا

18- مندرجہ ذیل میں سے کون سی وجہ ہے کہ مقام پر کام کرنے والے مزدور کو حفاظتی ہیلمیٹ پہننا چاہئے؟

- (a) اچھا دکھنے کے لئے
- (b) ہوا اور بارش کو برداشت کرنے کے لئے
- (c) سر کو چوٹ سے محفوظ رکھنے کے لئے
- (d) مختلف درجے کے مزدوروں کی نشاندہی کے لئے

19- حفاظتی جوتوں کا بنیادی مقصد ہوتا ہے :

- (a) چہل قدمی کی رفتار کو بڑھانا
- (b) جلد کی بیماریوں سے بچانا
- (c) پاؤں کو محفوظ رکھنا
- (d) شکل و صورت کو بہتر دکھانا

20- مشق کے ضابطے کے مطابق، دگنی سطر والے مچان پر کام کے چبوترے کی کُل چوڑائی کس سے کم نہیں ہونی چاہئے :

- (a) 200 ملی میٹر
- (b) 400 ملی میٹر
- (c) 600 ملی میٹر
- (d) 800 ملی میٹر