


**鋪瓦工（瓷瓦）**  
**技能測試（大工）**  
**技術知識測試（筆試）模擬試題**  
( 版本：TTT-WM-CN-01 )

This document relates to trade test for Tiler (Tile). Should you require an English version of this document, please contact Hong Kong Construction Industry Trade Testing Centre at 2100 9000.



## 免責聲明

未經建造業議會（議會）的書面許可，任何人士不得翻印或傳播本資料。儘管議會已盡合理努力以確保本資料所載列資料均屬準確，惟議會仍鼓勵讀者須在可能的情況下，向其專業顧問尋求適當獨立意見，並且讀者不應將本資料視作採取任何相關行動之專業意見的替代，亦不應依賴本資料作所述用途。議會不會就因不當使用此文件造成之損失負上任何責任。

本資料的所有內容均只作準備測試的參考用途，並不覆蓋全部測試內容，讀者應參閱相應的正式測試文件，尤其是這些文件內的條款細則及要求。

本資料內容如有任何改變、更新或刪除，議會不會另行通知。

議會保留對本資料的所有解釋權。

## 查詢

如對本資料有任何查詢，歡迎與香港建造業工藝測試中心聯絡：

地址：香港仔漁光道 95 號

電話：(852) 2100 9000

傳真：(852) 2100 9090

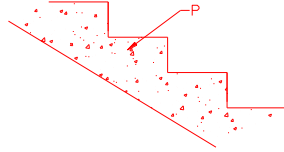
電郵：hkcittc@cic.hk

網址：www.cic.hk

## 鋪瓦工（瓷瓦）技能測試（大工） 技術知識測試（筆試）模擬試題

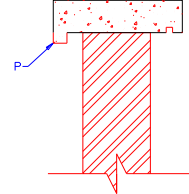
1. 下圖樓梯「P」所示的部分是：

- a. 踏步
- b. 梯腰
- c. 級咀
- d. 級高



2. 下圖牆頭「P」所示的部分名為：

- a. 接縫
- b. 地腳線
- c. 滴水線
- d. 滴水槽



3. 量度牆瓦的面積時，門口空間是：

- a. 不計算在內
- b. 當牆面計算
- c. 當一半面積計算
- d. 當兩倍面積計算

4. 在一幅平整的牆身上鋪砌瓷瓦，塗抹水泥漿的厚度約為：

- a. 1 毫米
- b. 5 毫米
- c. 10 毫米
- d. 15 毫米

5. 瓷瓦掃口工作最快於鋪砌後多久進行？

- a. 一天
- b. 二天
- c. 三天
- d. 四天

6. 一般而言，超過那一高度才稱為護壁（傍水）？

- a. 300 毫米
- b. 400 毫米
- c. 500 毫米
- d. 600 毫米

7. 所謂鋪瓷瓦照鏡，通常鋪在什麼位置？

- a. 明角
- b. 陰角
- c. 牆中
- d. 牆腳

8. 鋪砌瓷瓦或紙皮石窗線時，正確做法是先做：

- a. 頂部
- b. 正面
- c. 底部
- d. 側面

9. 在甚麼情況下，瓷瓦於鋪砌前毋須浸水？

- a. 將用水泥沙漿鋪砌
- b. 將用純水泥漿鋪砌
- c. 將用石灰漿去鋪砌
- d. 將用化學膠漿鋪砌

10. 鋪砌牆身瓷瓦的一般次序是：

- a. 由頂向下鋪砌度
- b. 由第二行開始向上鋪砌
- c. 由地台面開始向上鋪砌
- d. 由頂第二行開始向下鋪砌

### 注意事項

本資料的所有內容均只作準備測試的參考用途，並不覆蓋全部測試內容，讀者或考生應參閱相應的正式測試文件。測試內容設有不同版本，內容包括但不限於工具、物料、設備、圖則、施工細節或程序及不同的模擬工地環境等的變更，考生於進行測試時應以正式的測試文件為準。本資料內容如有任何改變、更新或刪除，議會不會另行通知。

## 鋪瓦工（瓷瓦）技能測試（大工）

### 技術知識測試（筆試）模擬試題（續）

11. 橫掃及雞脾掃的用途是：
  - a. 清潔及掃口
  - b. 混和施工材料
  - c. 清潔施工場地
  - d. 鋪砌瓷瓦紙皮石
12. 鋪砌瓷瓦夾角時，切割瓷瓦的工具是：
  - a. 推機
  - b. 鐮機
  - c. 鉗仔
  - d. 鐵筆
13. 常用手提式鐮碟的直徑是：
  - a. 60 毫米
  - b. 80 毫米
  - c. 100 毫米
  - d. 120 毫米
14. 當水泥漿失去可塑性時，應：
  - a. 加水後再用
  - b. 拌合後再用
  - c. 放棄使用
  - d. 加速用完
15. 當紙皮石運抵地盤，應放於：
  - a. 室外地台面上
  - b. 露天不阻礙行人的地方
  - c. 工人少到的梯間平台上
  - d. 離地約 150 毫米的枋板上
16. 那一種瓦片不適宜鋪砌地台？
  - a. 高錦瓦
  - b. 琉璃瓦
  - c. 拋光瓦
  - d. 紙皮石
17. 《防止賄賂條例》訂明的「利益」最低金額為多少？
  - a. 100 元
  - b. 200 元
  - c. 500 元
  - d. 無金額限制
18. 工作時要認真及要注意職業操守包括：
  - a. 擅取他人物品
  - b. 妄顧他人，貪圖自己方便
  - c. 接受金錢利益
  - d. 堅守廉潔，決不收受非法利益，做事負責，對得起自己
19. 工友搬運重物時，應依從下列那一項做法才正確？
  - a. 採用正確姿勢，背部盡量保持挺直
  - b. 每次盡量搬多一些，以求快點完成
  - c. 將物件拋上貨架，以求鍛練身體
  - d. 突然加快工作速度
20. 長時間於酷熱環境下工作，可引致：
  - a. 中暑
  - b. 短暫失明
  - c. 饑餓
  - d. 貧血

#### 注意事項

本資料的所有內容均只作準備測試的參考用途，並不覆蓋全部測試內容，讀者或考生應參閱相應的正式測試文件。測試內容設有不同版本，內容包括但不限於工具、物料、設備、圖則、施工細節或程序及不同的模擬工地環境等的變更，考生於進行測試時應以正式的測試文件為準。本資料內容如有任何改變、更新或刪除，議會不會另行通知。