


# 鋼筋屈紮工

## 技能測試 ( 大工 )

### 技術知識測試 ( 筆試 ) 模擬試題

( 版本 : TBF-WM-CN-01 )

This document relates to trade test for Bar Bender and Fixer. Should you require an English version of this document, please contact Hong Kong Construction Industry Trade Testing Centre at 2100 9000.



## 免責聲明

未經建造業議會 ( 議會 ) 的書面許可，任何人士不得翻印或傳播本資料。儘管議會已盡合理努力以確保本資料所載列資料均屬準確，惟議會仍鼓勵讀者須在可能的情況下，向其專業顧問尋求適當獨立意見，並且讀者不應將本資料視作採取任何相關行動之專業意見的替代，亦不應依賴本資料作所述用途。議會不會就因不當使用此文件造成之損失負上任何責任。

本資料的所有內容均只作準備測試的參考用途，並不覆蓋全部測試內容，讀者應參閱相應的正式測試文件，尤其是這些文件內的條款細則及要求。

本資料內容如有任何改變、更新或刪除，議會不會另行通知。

議會保留對本資料的所有解釋權。

## 查詢

如對本資料有任何查詢，歡迎與香港建造業工藝測試中心聯絡：

地址：香港仔漁光道 95 號

電話：(852) 2100 9000









傳真：(852) 2100 9090

電郵：hkcittc@cic.hk

網址：www.cic.hk

## 鋼筋屈紮工技能測試 (大工)

### 技術知識測試 (筆試) 模擬試題

- 「拆則」後的圖紙行內人稱它為：
  - 草稿紙
  - 扎樣紙
  - 圖則紙
  - 資料紙
- 符號「 $\oplus^{+1.10}$ 」是表示：
  - 地界
  - 地域
  - 石屎面平水
  - 鋼筋主鐵平水
- 陣結構的 " D.S. " 是表示：
  - 二個絡
  - 三個絡
  - 六個絡
  - 八個絡
- 「之字」的斜度一般不能大於：
  - 1 : 2
  - 1 : 4
  - 1 : 6
  - 1 : 12
- 按 53D 計算，T40 的「駁口」長度是：
  - 1,680 毫米
  - 1,840 毫米
  - 2,120 毫米
  - 3,360 毫米
- 樓面石屎厚 400 毫米，所用的面鐵鐵櫟是：
  - 
  - 
  - 
  - 
- 「鎖匙頭」的形狀是：
  - 
  - 
  - 
  - 
- 「之字」的起斜長度最短要有：
  - 300 毫米
  - 600 毫米
  - 900 毫米
  - 1,200 毫米
- 陣面鐵的「駁口」位置，通常設在：
  - 無規定
  - 陣跨度中間
  - 最大受拉區
  - 任何位置
- 分開各層鋼筋的材料是：
  - 格鐵
  - 長鐵
  - 短鐵
  - 巴鐵

#### 注意事項

本資料的所有內容均只作準備測試的參考用途，並不覆蓋全部測試內容，讀者或考生應參閱相應的正式測試文件。測試內容設有不同版本，內容包括但不限於工具、物料、設備、圖則、施工細節或程序及不同的模擬工地環境等的變更，考生於進行測試時應以正式的測試文件為準。本資料內容如有任何改變、更新或刪除，議會不會另行通知。

## 鋼筋屈紮工技能測試 (大工)

### 技術知識測試 (筆試) 模擬試題 (續)

11. 固定雙層間牆的鋼筋距離，必須加上足夠的：  
a. 撐套  
b. 飛碟  
c. 蝴蝶磚  
d. 陣角磚
12. 按 Construction Standard CS2(2012)·花鐵的受拉能力是：  
a. 50 牛頓 / 平方毫米 (N/mm<sup>2</sup>)  
b. 410 牛頓 / 平方毫米 (N/mm<sup>2</sup>)  
c. 460 牛頓 / 平方毫米 (N/mm<sup>2</sup>)  
d. 500 牛頓 / 平方毫米 (N/mm<sup>2</sup>)
13. 將鋼筋熱浸鍍鋅是可以：  
a. 加強鋼筋強度  
b. 令鋼筋顏色改變  
c. 令鋼筋更為美觀  
d. 保護鋼筋避免銹蝕
14. 剪屈 Y40 的電動機械主要是：  
a. 蛇頭剪  
b. 普通鋤刀  
c. 剪屈鐵機  
d. 手提磨機
15. " 30T32-225-B4 " 的 " 30 " 是表示鋼筋：  
a. 直徑  
b. 長度  
c. 數量  
d. 質量
16. 陣結構的 " S.S. " 是表示：  
a. 一個絡  
b. 二個絡  
c. 三個絡  
d. 四個絡
17. 《防止賄賂條例》訂明的「利益」最低金額為多少？  
a. 100 元  
b. 200 元  
c. 500 元  
d. 無金額限制
18. 工作時要認真及要注意職業操守包括：  
a. 擅取他人物品  
b. 妄顧他人，貪圖自己方便  
c. 接受金錢利益  
d. 堅守廉潔，決不收受非法利益，做事負責，對得起自己
19. 在高空工作時，除安全帽外，還須適當地使用：  
a. 安全帶  
b. 爬山鞋  
c. 棉手套  
d. 護眼罩
20. 根據法例規定，工作台須設置適當的圍欄，其高度不得少於：  
a. 800 毫米  
b. 900 毫米  
c. 1,000 毫米  
d. 1,100 毫米

#### 注意事項

本資料的所有內容均只作準備測試的參考用途，並不覆蓋全部測試內容，讀者或考生應參閱相應的正式測試文件。測試內容設有不同版本，內容包括但不限於工具、物料、設備、圖則、施工細節或程序及不同的模擬工地環境等的變更，考生於進行測試時應以正式的測試文件為準。本資料內容如有任何改變、更新或刪除，議會不會另行通知。