


# 雲石工

## 技能測試 ( 大工 )

### 技術知識測試 ( 筆試 ) 模擬試題

( 版本 : TML-WM-CN-01 )

This document relates to trade test for Marble Worker. Should you require an English version of this document, please contact Hong Kong Construction Industry Trade Testing Centre at 2100 9000.



## 免責聲明

未經建造業議會 ( 議會 ) 的書面許可，任何人士不得翻印或傳播本資料。儘管議會已盡合理努力以確保本資料所載列資料均屬準確，惟議會仍鼓勵讀者須在可能的情況下，向其專業顧問尋求適當獨立意見，並且讀者不應將本資料視作採取任何相關行動之專業意見的替代，亦不應依賴本資料作所述用途。議會不會就因不當使用此文件造成之損失負上任何責任。

本資料的所有內容均只作準備測試的參考用途，並不覆蓋全部測試內容，讀者應參閱相應的正式測試文件，尤其是這些文件內的條款細則及要求。

本資料內容如有任何改變、更新或刪除，議會不會另行通知。

議會保留對本資料的所有解釋權。

## 查詢

如對本資料有任何查詢，歡迎與香港建造業工藝測試中心聯絡：

地址：香港仔漁光道 95 號

電話：(852) 2100 9000

傳真：(852) 2100 9090

電郵：hkcittc@cic.hk

網址：www.cic.hk





## 雲石工技能測試 (大工)

### 技術知識測試 (筆試) 模擬試題

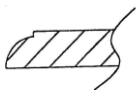
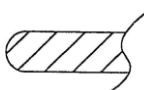
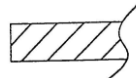
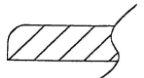
1. 下列哪一個符號代表混凝土 ?

- a. A.   
 b. B.   
 c. C.   
 d. D. 

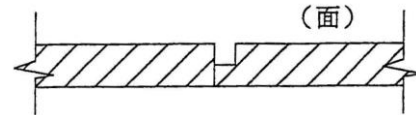
2. 下列哪一個符號代表平水 ?

- a.  b.   
 c.  d. 

3. 下列哪一圖形屬雲石工件的棋子邊 ?

- a.  b.   
 c.  d. 

4. 下圖的雲石夾縫為 :



- a. 假雞咀  
 b. 圓口線  
 c. 斜口線  
 d. 普通夾縫

5. 下列那項不是雲石的特性 ?

- a. 耐水  
 b. 吸水  
 c. 耐酸  
 d. 膨脹及收縮

6. 意大利純黑麻石的特性是 :

- a. 脆弱  
 b. 易滲色  
 c. 易捲曲  
 d. 可至鏡面效果

7. 米黃石屬什麼石種 ?

- a. 砂石  
 b. 再造石  
 c. 花崗石 (麻石)  
 d. 大理石 (雲石)

8. 虎皮紅屬什麼石種 ?

- a. 砂石  
 b. 再造石  
 c. 花崗石 (麻石)  
 d. 大理石 (雲石)

9. 基準面是指 :

- a. 平水尺面  
 b. 地基平水  
 c. 地台平水  
 d. 一個地盤所有平水的根據面

10. 裝嵌較高的牆身雲石時, 用甚麼來規準其垂直線 ?

- a. 直尺  
 b. 垂球  
 c. 鋼線  
 d. 平水

#### 注意事項

本資料的所有內容均只作準備測試的參考用途, 並不覆蓋全部測試內容, 讀者或考生應參閱相應的正式測試文件。測試內容設有不同版本, 內容包括但不限於工具、物料、設備、圖則、施工細節或程序及不同的模擬工地環境等的變更, 考生於進行測試時應以正式的測試文件為準。本資料內容如有任何改變、更新或刪除, 議會不會另行通知。

## 雲石工技能測試 (大工)

### 技術知識測試 (筆試) 模擬試題 (續)

11. 如要準確地量度雲石是否呈正方形，可用：  
a. 十字式  
b. 對角式  
c. 直拉式  
d. 橫拉式
12. 一般掛件法 (裝空牆) 有那幾種方法？  
(i) 焊接  
(ii) 灌漿  
(iii) 拉泥  
(iv) 使用爆炸螺絲  
a. i 及 ii  
b. ii 及 iii  
c. iii 及 iv  
d. i 及 iv
13. 下列那一種工具用於規準平水？  
a. 拉尺  
b. 角尺  
c. 平水尺  
d. 木摺尺
14. 常用雲石鑽咀的直徑是：  
a. 3 毫米 (1 分)  
b. 4 毫米 (1 ¼分)  
c. 5 毫米 (1 ½分)  
d. 6 毫米 (2 分)
15. 手提磨機最常用的磨碟直徑是：  
a. 100 毫米  
b. 200 毫米  
c. 300 毫米  
d. 400 毫米
16. 掛件法 (空牆) 除用針塞 (鋼針) 外，還用：  
a. 蝴蝶碼  
b. 螺旋碼  
c. 鋼纜  
d. 鐵線
17. 《防止賄賂條例》訂明的「利益」最低金額為多少？  
a. 100 元  
b. 200 元  
c. 500 元  
d. 無金額限制
18. 工作時要認真及要注意職業操守包括：  
a. 擅取他人物品  
b. 妄顧他人，貪圖自己方便  
c. 接受金錢利益  
d. 堅守廉潔，決不收受非法利益，做事負責，對得起自己
19. 工友搬運重物時，應依從下列那一項做法才正確？  
a. 採用正確姿勢，背部盡量保持挺直  
b. 每次盡量搬多一些，以求快點完成  
c. 將物件拋上貨架，以求鍛練身體  
d. 突然加快工作速度
20. 長時間於酷熱環境下工作，可引致：  
a. 中暑  
b. 短暫失明  
c. 饑餓  
d. 貧血

#### 注意事項

本資料的所有內容均只作準備測試的參考用途，並不覆蓋全部測試內容，讀者或考生應參閱相應的正式測試文件。測試內容設有不同版本，內容包括但不限於工具、物料、設備、圖則、施工細節或程序及不同的模擬工地環境等的變更，考生於進行測試時應以正式的測試文件為準。本資料內容如有任何改變、更新或刪除，議會不會另行通知。